

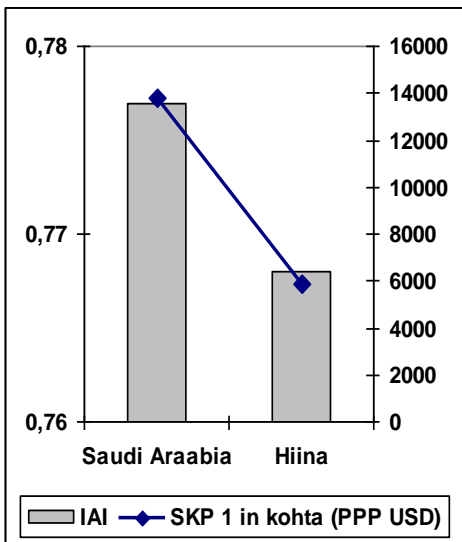
KÜSIMUSED 10. – 12. KLASSILE

Nimi.....

Kool.....Klass.....

Geograafiaõpetaja.....

1. Tee joonise alusel kolm järeldust.

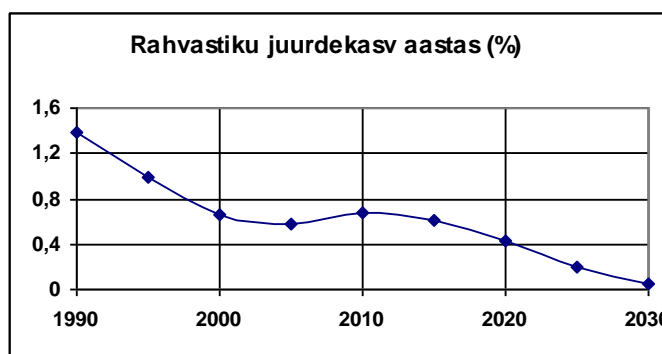
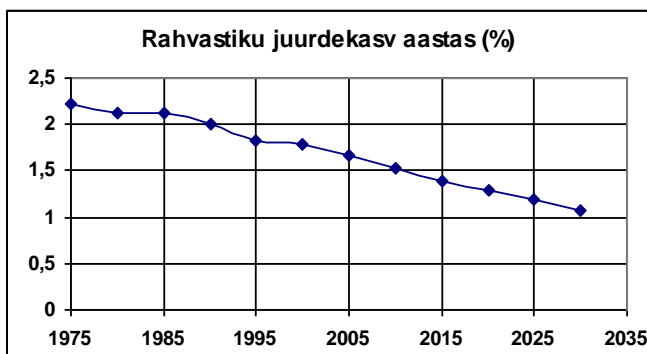


3 punkti

- 1)
-
- 2)
-
- 3)
-

2. Kumb rahvastiku aastase juurdekasvu joonis vastab Hiinale ja kumb Indiale? Õige vastus kirjuta joonele.

1 punkt



a)

b).....

Põhjenda oma valikut.

3 punkti

.....

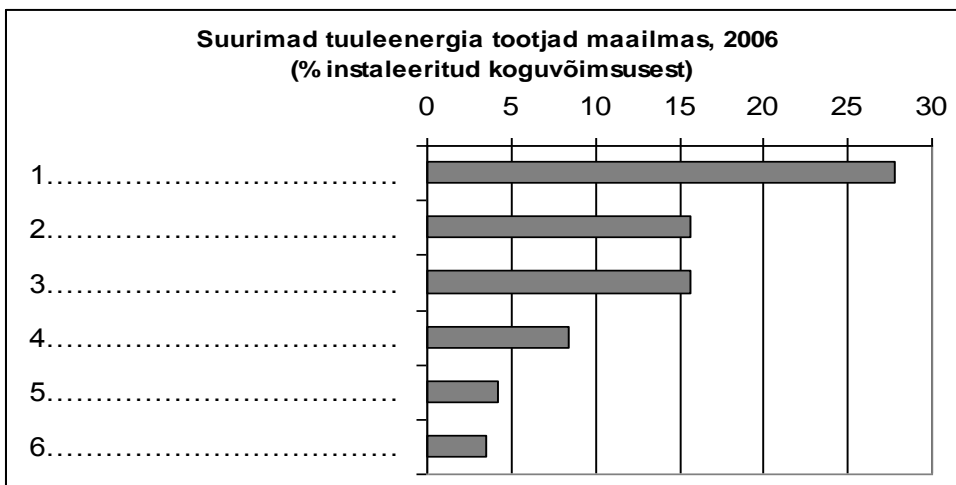
.....

.....

.....

3. Kirjuta joonisele õiges järjekorras maailma suurimad tuuleenergia tootjad aastal 2006: Hiina, India, Taani, USA, Saksamaa, Hispaania.

3 punkti

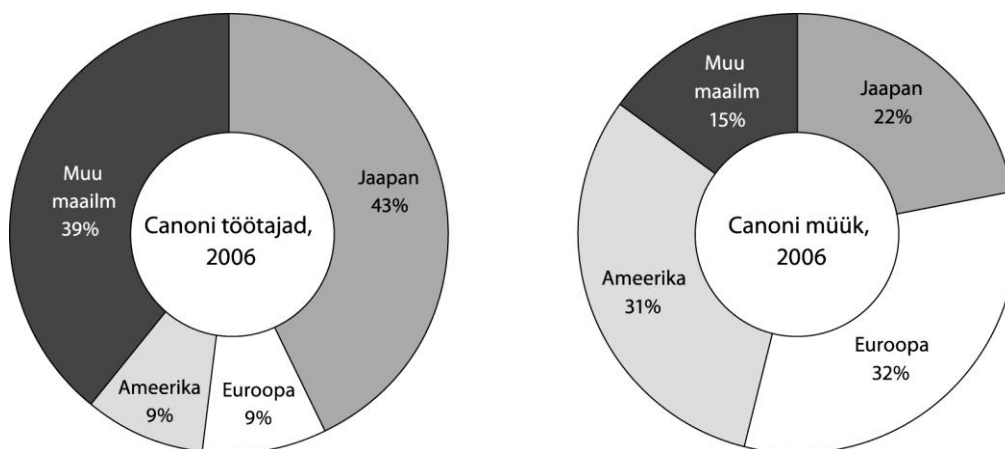


4. Miks on ca 65% maailma tuuleenergia koguvõimsusest ja enamus turbiinide tootmisest koondunud Euroopasse?

3 punkti

- 1)
- 2)
- 3)

5. Canoni peamiseks toodanguks on kontorimasinad, filmikaamerad ja fotoaparaadid.



3 punkti

Põhjenda Canoni tootmise ja müügi paiknemist maailmas.

- 1)
- 2)
- 3)

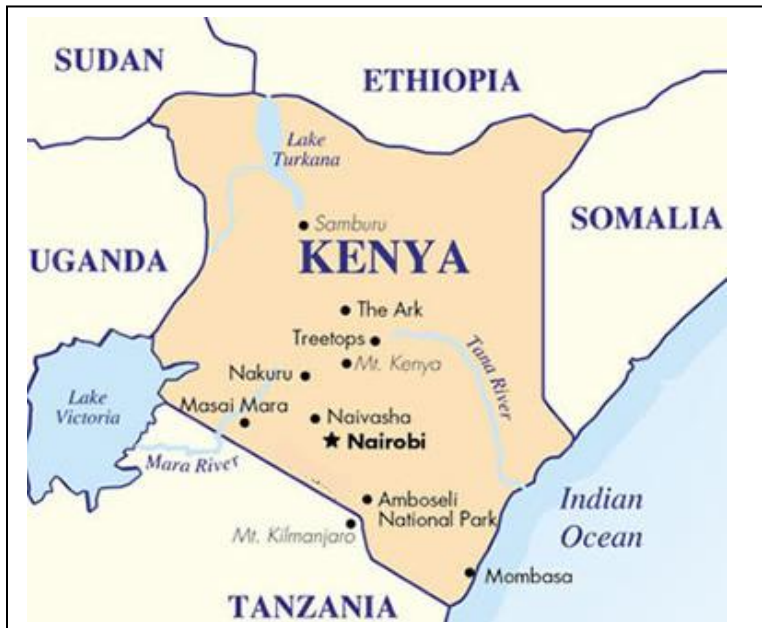
6. Miks on Kenyas kujunenud taoline elektrienergia tootmise struktuur?

3 punkti

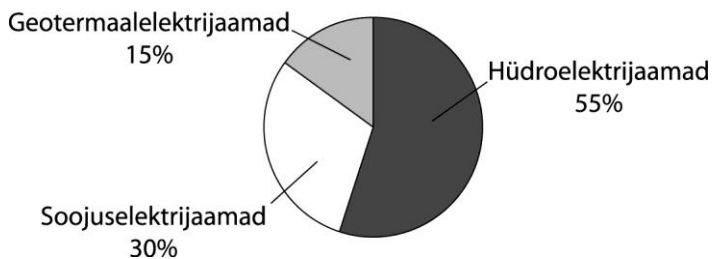
- 1)
- 2)
- 3)

Tähista Kenya kaardil ala, kus paiknevad geotermaalelektrijaamad.

2 punkti



Kenya elektrienergia toodang 2005

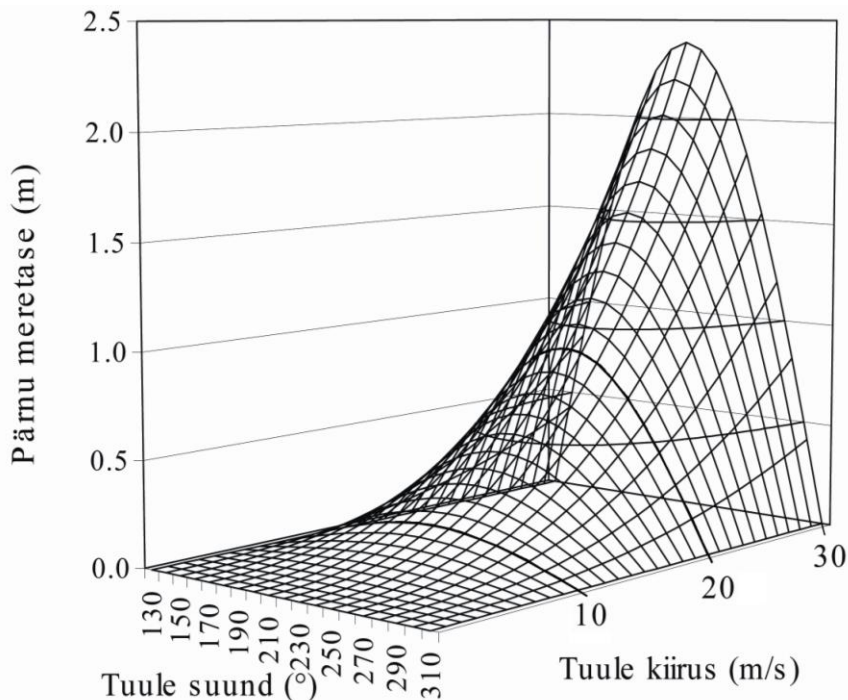


7. Indrek Neivelt on öelnud järgmist: "Eesti majandus ei saa enam püsida üksnes Kreenholmil ja Elcoteqil." Mis on selle sõnumi sisu?

1 punkt

.....
.....

8. Joonisel on kujutatud Pärnu lahe veetaseme sõltuvust tuule suunast (kraadides) ja tugevusest.



Millisest suunast puhuv tuul kergitab Pärnu lahes vett kõige enam ja miks?

2 punkti

.....

Millised on ligikaudsed maksimaalsed veetaseme kõrgused kui tuuletugevus on:

2 punkti

a) 20 m/s

b) 30 m/s

Teadlased on leidnud, et kliima muutumise tõttu muutuvad tormid Põhja-Euroopas järjest tugevamaks.

Kuidas võib see Pärnut tulevikus mõjutada?

2 punkti

.....

.....

9. Millisel Eesti saarel on leitud maagaasi? Mis otstarbel on seda gaasi kasutatud?

2 punkti

.....

.....

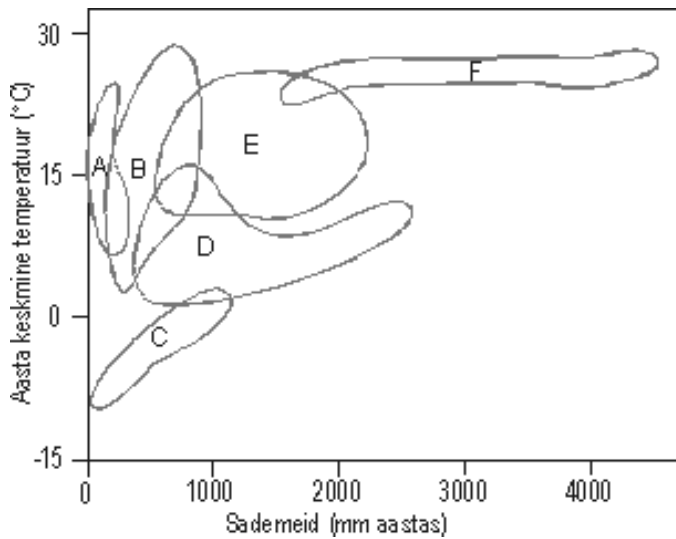
10. Üks matkagrupp püstitas telgi Väinamere laiule ja teine grupp püstitas täpselt samasuguse telgi Tiibetis 5000 m kõrgusel asuvale platoole. Mõlemad grupid elasid üle tormi tuule kiirusega 30 m/s. On teada, et ühel juhul ei pidanud telk vastu ja purunes. **Kumma grupiga see tõenäoliselt juhtus? Põhjenda.**

2 punkti

.....

.....

11. Skeemil on kujutatud loodusvööndeid vastavalt temperatuuri ja sademete jaotusele. Kirjuta iga loodusvööndi juurde, mis tähega seda skeemil on kujutatud.



- vihmamets.....
- kõrb.....
- rohtla.....
- lehtmets.....
- okasmets.....
- tundra.....

3 punkti

12. Vihmametsade hävimisega ulatuslikult territooriumilt, kaovad ka eeldused nende metsade taastumiseks sellel territooriumil. Esita üks põhjendatud argument selle väite toetuseks.

2 punkti

.....

.....

13. Nimeta neli saart, millel kulgevad riigipiirid. Nimeta iga saare puhul, milliste riikide vahel see jagatud on.

4 punkti

Saar	Milliste riikide vahel see saar on jagatud

14. Kus on happesademetega mõju pinnasele ohtlikum, kas Põhja- või Lõuna-Eestis. Põhjenda oma vastust.

2 punkti

.....

.....

Kokku 43 punkti